

CONCURSO PÚBLICO
EMPRESA CUIABANA DE LIMPEZA URBANA - LIMPURB

EDITAL Nº 001/2022/LIMPURB

TÉCNICO ADMINISTRATIVO

Duração: 03h00min (três horas)
Leia atentamente as instruções abaixo:

- 01** Você recebeu do fiscal o seguinte material:
a) Este caderno, com 60 (sessenta) questões da Prova Objetiva, sem repetição ou falha, conforme distribuição abaixo:

CONHECIMENTOS BÁSICOS	CONHECIMENTOS GERAIS	CONHECIMENTOS ESPECÍFICOS
01 a 20	21 a 40	41 a 60

- b)** Um Cartão de Respostas destinado às respostas das questões objetivas.
- 02** Verifique se este material está em ordem e se o seu nome e número de inscrição conferem com os que aparecem no Cartão de Respostas. Caso contrário, notifique imediatamente o fiscal.
- 03** Após a conferência, o candidato deverá assinar no espaço próprio do Cartão de Respostas, com caneta esferográfica de tinta na cor azul ou preta.
- 04** No Cartão de Respostas, a marcação da alternativa correta deve ser feita cobrindo a letra correspondente ao número da questão e preenchendo todo o espaço interno, com caneta esferográfica de tinta na cor azul ou preta, de forma contínua e densa.

Exemplo: A B C D

- 05** Para cada uma das questões objetivas, são apresentadas 4 (quatro) alternativas classificadas com as letras (A, B, C e D), mas só uma responde adequadamente à questão proposta. Você só deve assinalar uma alternativa. A marcação em mais de uma alternativa anula a questão, mesmo que uma das respostas esteja correta.
- 06** Somente depois de decorrida 01 (uma) hora do início da prova, o candidato poderá entregar seu Cartão de Respostas, seu Caderno de Questões e retirar-se da sala de prova. O candidato que insistir em sair da sala de prova, descumprindo o aqui disposto, deverá assinar o Termo de Ocorrência declarando sua desistência do Concurso, que será lavrado pelo Coordenador do Local.
- 07** Ao candidato, será permitido levar seu CADERNO DE QUESTÕES a partir de 01 (uma) hora para o término da prova e desde que permaneça em sala até esse momento.
- 08** Não será permitida a cópia de gabarito no local de prova. Ao terminar a prova de Conhecimentos, o candidato entregará, obrigatoriamente, ao fiscal de sala, o seu CARTÃO DE RESPOSTAS e o seu CADERNO DE QUESTÕES, ressalvado o estabelecido no item 7.
- 09** Reserve os 30 (trinta) minutos finais para marcar seu Cartão de Respostas. Os rascunhos e as marcações assinaladas no Caderno de Questões não serão levados em consideração.
- 10** Os 3 (três) últimos candidatos permanecerão sentados até que todos concluem a prova ou que termine o seu tempo de duração, devendo assinar a ata de sala e retirar-se juntos.

CONHECIMENTOS BÁSICOS

LÍNGUA PORTUGUESA

Texto I

Apreensão de imigrantes brasileiros nos EUA volta a crescer e supera 5.000 por mês

Inflação, falta de perspectivas e regras confusas estimulam imigração irregular, dizem especialistas

A cada dia de maio, em média, 165 brasileiros foram barrados ao tentar entrar nos EUA de modo irregular, via México, mantendo uma tendência de alta que ganha força desde março. O total de apreensões no mês passado, 5.118, foi quase o quádruplo do de março (1.346), mas abaixo dos 10.471 registrados em setembro do ano passado, segundo o CBP (Departamento de Controle de Fronteiras).

"A justificativa que a gente mais escuta nas entrevistas com imigrantes brasileiros que chegam aos EUA é a economia brasileira, devido à alta da inflação e à estagnação dos salários", afirma Gabrielle Oliveira, professora na Universidade de Harvard e pesquisadora de imigração. "Muitos deles dizem não ver perspectiva de melhora no Brasil, independentemente de quem for eleito presidente em outubro."

O aumento de brasileiros detidos é parte de um recorde de imigrantes que tentam entrar nos EUA. O total de barrados na fronteira tem ficado acima de 200 mil por mês desde março. Em maio, atingiu 239 mil, a maior cifra mensal já registrada - o dobro do que se via em 2021. Essa alta tem várias razões: se muitos países da América Latina enfrentam crises econômicas, os EUA têm vagas de trabalho sobrando; outro ponto é a percepção de que Joe Biden seria mais tolerante com a imigração do que Donald Trump.

Para Oliveira, o caso divulgado na segunda (27), quando ao menos 51 pessoas, provavelmente imigrantes em situação irregular, foram encontradas mortas dentro e ao redor de um caminhão em San Antonio, no Texas, mostra que a fronteira continua bastante difícil de cruzar, mesmo sob comando democrata.

"Quanto mais vigiada estiver a fronteira, mais gente buscará esse tipo de entrada, superarriscada. As pessoas estão chegando [à fronteira] e sendo recusadas, o que aumenta o desespero para entrar. Veremos mais gente escondida em veículos, morrendo por desidratação e altas temperaturas", diz a pesquisadora.

Felipe Alexandre, advogado do escritório AG Immigration, por outro lado, afirma que as condições ficaram um pouco melhores sob o governo Biden. "Temos visto mudanças nos tribunais de imigração. Agora, os promotores têm mais poder para ajudar, como concordar em juízo com a defesa do imigrante [para que ele fique no país]. Antes, eles estavam com as mãos totalmente amarradas."

O governo Trump, que fazia do combate à imigração irregular uma bandeira, criou medidas para dificultar a entrada de estrangeiros. Muitas delas seguem em vigor, como a Título 42, que permite a agentes barrar pedidos de asilo na fronteira e mandar os requerentes embora para esperar o resultado da solicitação em outro país, sob a justificativa de risco à saúde pública. A regra foi criada em meio à pandemia de Covid.

Fonte: <https://www1.folha.uol.com.br/mundo/2022/06/apreensao-de-imigrantes-brasileiros-nos-eua-volta-a-crescer-e-supera-5000-por-mes.shtml>. Acesso em 2 de julho de 2022. Adaptado.

1. O texto lido é um exemplo de:

- A) notícia
- B) reportagem
- C) editorial
- D) crônica

2. O objetivo do texto é:

- A) indicar que o atual governo dos EUA é mais rigoroso que o anterior
- B) denunciar situações desumanas e degradantes que se associam à imigração
- C) retratar o aumento no número de imigrantes irregulares nos EUA
- D) propagar as condições econômicas dos países da América Latina

3. Parônimos são palavras que apresentam semelhança do ponto de vista gráfico e fonético.

São exemplos de parônimos:

- A) imigração, imigrante
- B) imigração, emigração
- C) emigração, emigrante
- D) emigração, imigrante

4. "A justificativa que a gente mais escuta nas entrevistas com imigrantes brasileiros que chegam aos EUA é a economia brasileira, devido à alta da inflação e à estagnação dos salários" (2º parágrafo).

O uso das aspas nesse trecho serve para indicar que se trata:

- A) da reprodução exata da fala de uma pessoa
- B) de um uso figurado da linguagem
- C) de um uso mais formal da língua
- D) do registro da fala de outra pessoa por um narrador

5. "[...] outro ponto é a percepção de que Joe Biden **seria** mais tolerante com a imigração do que Donald Trump" (3º parágrafo).

No trecho, o uso da forma verbal destacada, no futuro do pretérito, serve para indicar:

- A) condição
- B) suposição
- C) indignação
- D) probabilidade

6. Em "Para Oliveira, o caso divulgado na segunda (27), quando ao menos 51 pessoas, **provavelmente** imigrantes em situação irregular, foram encontradas mortas dentro e ao redor de um caminhão em San Antonio, no Texas [...]" (4º parágrafo), o termo destacado é um advérbio que expressa:

- A) lugar
- B) intensidade
- C) dúvida
- D) modo

7. "**Quanto mais** vigiada estiver a fronteira, **mais** gente buscará esse tipo de entrada, superarriscada" (5º parágrafo).

Nesse trecho, os elementos destacados servem para expressar:

- A) conformidade
- B) tempo
- C) consequência
- D) proporção

8. "Antes, eles estavam com as mãos totalmente amarradas" (6º parágrafo).

A expressão "mãos totalmente amarradas" significa, no contexto:

- A) estar impedido para tomar atitudes
- B) estar com os membros superiores atados
- C) realizar ações que dificultem o trabalho de outras pessoas
- D) realizar ações que imobilizem partes do próprio corpo

RACIOCÍNIO LÓGICO E MATEMÁTICO

9. Existem exatamente 12 maneiras distintas de escrever uma fração equivalente a $\frac{1}{2}$, usando uma única vez todos os algarismos de 1 a 9. Uma dessas maneiras é $\frac{6729}{13458}$. Considere-se que a fração $\frac{9327}{N}$ seja uma outra maneira de se escrever uma fração equivalente a $\frac{1}{2}$ usando todos os algarismos de 1 a 9.

O algarismo que ocupa a ordem das centenas do número N é:

- A) 6
- B) 5
- C) 8
- D) 1

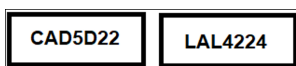
10. Os termos da sequência (2, 5, 11, 23, 47, n) foram escritos segundo um determinado padrão.

O valor de n é:

- A) 91
- B) 93
- C) 95
- D) 97

11. Os automóveis que circulam atualmente no Brasil são identificados por placas que apresentam uma sequência de 7 caracteres. Esta sequência pode ser formada por 4 letras e 3 algarismos, seguindo o padrão LLLNLNN ou por 3 letras e 4 algarismos, no padrão LLLNNNN. Nessas sequências, L é uma letra e N um algarismo.

Segue um exemplo de cada tipo de identificação possível.



Usando-se apenas as letras A, B e C e os algarismos ímpares, podem ser identificados no máximo x automóveis com placas que usam a sequência LLLNLNN e y automóveis com placas que usam a sequência LLLNNNN.

A soma (x+y) está corretamente indicada na seguinte opção:

- A) 20 000
- B) 24 000
- C) 25 000
- D) 27 000

12. Considerem-se dois conjuntos, M e C, não vazios, definidos a seguir.

M = conjunto formado por todas as pessoas que gostam de música;

C = conjunto formado por todas as pessoas que gostam de cinema.

Se $M - C = M$, é necessariamente verdade a seguinte afirmação:

- A) Todas as pessoas que gostam de música gostam de cinema.
- B) Todas as pessoas que gostam de música não gostam de cinema.
- C) Pelo menos uma pessoa que gosta de cinema também gosta de música.
- D) Nenhuma pessoa gosta de cinema.

NOÇÕES DE INFORMÁTICA


13. Nos microcomputadores e notebooks, a navegação em sites na internet é realizada por meio de um software específico instalado na máquina, como o Google Chrome, por exemplo. Esse software é conhecido como:

- A) cookie
- B) metronet
- C) homepage
- D) browser

14. É comum navegar em um determinado website, considerado a ferramenta de busca e pesquisa mais empregada em todo o mundo. A URL que faz referência a esse website no Brasil e que permite a navegação e o uso de seus recursos é:


- A) #googlebrasil
- B) @googlechrome
- C) https://www.google.com.br/
- D) google@www.google.com.br/

15. No uso dos recursos do editor Word 2019 BR, durante a digitação de um texto, foi feita a formatação de um parágrafo com o tipo de alinhamento centralizado. Para isso, o parágrafo foi

selecionado e, em seguida, foi acionado o ícone , disponível na Faixa de Opções desse editor. Como alternativa, o Word permite a execução de um atalho de teclado, com o mesmo resultado. Esse atalho de teclado é:

- A) Ctrl + E
- B) Ctrl + C
- C) Alt + E
- D) Alt + C

16. No que diz respeito às planilhas eletrônicas, o Excel do pacote MS Office 2019 BR é um dos aplicativos mais utilizados. Neste contexto, observe-se a planilha abaixo, criada nesse software.

	A	B	C	D
1				
2				
3				
4				
5				
6	15		MENOR =	12
7	12			
8	18		MÍNIMO =	12
9	19			
10	13			

- I. Em D6, foi inserida uma expressão que determina o menor número entre todos nas células A6, A7, A8, A9 e A10, usando a função MENOR.
- II. Em D8, foi inserida outra expressão que obtém o mesmo resultado, conforme a figura, mas usando a função MÍNIMO. Nessas condições, as expressões inseridas em D6 e D8 são, respectivamente:

A) $=\text{MENOR}(A6:A10;1)$ e $=\text{MÍNIMO}(A6:A10;1)$

B) $=\text{MENOR}(A6:A10;1)$ e $=\text{MÍNIMO}(A6:A10)$

C) $=\text{MENOR}(A6:A10)$ e $=\text{MÍNIMO}(A6:A10;1)$

D) $=\text{MENOR}(A6:A10)$ e $=\text{MÍNIMO}(A6:A10)$

LEGISLAÇÃO BÁSICA

17. O Prefeito do Município Y vem veiculando decretos e resoluções, de caráter não sigiloso, em sua esfera de competência, por meio das redes sociais (*web*), tais como *facebook* e *linkedin*, sem observância da divulgação oficial dos respectivos atos normativos.

Nesse caso, há violação do princípio da:

- A) isonomia
- B) eficiência
- C) publicidade
- D) proporcionalidade

18. O Prefeito do Município X, apesar de inúmeras demandas dos munícipes por melhorias através de obras públicas, promoveu, de acordo com os trâmites legais, asfaltamento de rua inabitável, despida de futura construção residencial, comercial ou industrial nela e nas adjacências, por desinteresse da população local em lá se instalar. Ademais, essa obra de asfaltamento não contém previsão disposta no Plano Diretor local.

À vista disso, esse agente político agiu em contrariedade ao princípio da:

- A) eficiência
- B) legalidade
- C) publicidade
- D) segurança jurídica

19. A Lei Complementar nº 101/2000 (Lei de Responsabilidade Fiscal), em relação à União, aos Estados, ao Distrito Federal e aos Municípios, **NÃO** é aplicada:

- A) ao Poder Judiciário e ao Ministério Público
- B) ao Poder Executivo federal, estadual e municipal
- C) ao Poder Legislativo federal, estadual e municipal, nestes abrangidos os Tribunais de Contas
- D) às respectivas administrações indiretas, como as fundações públicas e privadas e empresas estatais independentes

20. Nos moldes da Lei Complementar nº 101/2000, são instrumentos de transparência da gestão fiscal, aos quais será dada ampla divulgação, em versões simplificadas, inclusive em meios eletrônicos de acesso público, entre outros, os Relatórios:

- A) Resumido da Execução Orçamentária e o de Gestão Fiscal
- B) Resumido das Metas Fiscais e de Gestão de Empenho
- C) Avaliativo da Situação Financeira e Atuarial e da Evolução do Patrimônio Líquido
- D) Demonstrativo da Estimativa e Compensação da Renúncia de Receita e da Margem de Redução das Despesas Variáveis

CONHECIMENTOS GERAIS

HISTÓRIA E GEOGRAFIA DE MATO GROSSO

21. A ação polêmica dos bandeirantes, em especial na fase de apresamento de nativos para vendê-los como trabalhadores cativos, que também penetrou pela capitania de Mato Grosso segundo o mapa apresentado, enfrentou uma grande resistência por parte da Igreja Católica, em especial da Ordem dos Jesuítas, tão atuante na América portuguesa.



Disponível em: <https://br.pinterest.com/pin/504755070720359912/>

Pode-se aferir que, para algumas das inúmeras nações indígenas que originalmente habitavam o território, a ação dos missionários jesuítas resultou, via de regra:

- A) na evangelização, que derivou de um processo pacífico de conversão dos nativos, haja vista a preservação total de seus traços culturais
- B) no completo respeito às tradições culturais dos nativos, visando a convertê-los ao Cristianismo e conquistar pacificamente seu apoio
- C) na escravização dos nativos, na maioria das vezes permitindo que os jesuítas lucrassem com o comércio desse tipo de mão de obra
- D) no entendimento de os missionários estarem na colônia para protegê-los, apesar da catequese e da imposição da cultura do colonizador

22. Embora tivesse uma vasta extensão territorial que totalizasse 48 mil léguas, a capitania de Mato Grosso era constituída por apenas dois distritos, o do Cuiabá e o do Mato Grosso, e suas respectivas vilas: Vila Real do Senhor Bom Jesus do Cuiabá (1727) e Vila Bela da Santíssima Trindade (1752), esta última fundada para ser sede de governo.

Fonte: JESUS, Nauk Maria de. Revista Territórios & Fronteiras, Cuiabá, vol. 5, n. 2, jul.-dez., 2012.

Tendo por base a avaliação presente no fragmento de texto, é possível afirmar corretamente acerca do passado histórico de Mato Grosso que:

- A) a consolidação política das Vilas Bela e do Cuiabá como centros de poder na região, à época, foi dificultada pelos vínculos estabelecidos entre a capitania de Mato Grosso e as capitanias do Rio de Janeiro, do Pará e de São Paulo
- B) a capitania era habitada por uma pequena diversidade de nações indígenas, tinha a pecuária como principal atividade econômica e localizava-se estrategicamente numa área de fronteira com os domínios do Estado espanhol
- C) Cuiabá, onde se localizava a Vila Real do Cuiabá, tinha relações mais intensas com a província do Pará, já Vila Bela, então capital de Mato Grosso, mantinha maiores conexões com as províncias de São Paulo e do Rio de Janeiro
- D) até a década de 1730, quando são descobertas as minas em Guaporé, a Vila Real do Senhor Bom Jesus do Cuiabá foi considerada a região mais avançada de Mato Grosso, colonizado na primeira metade do século XVIII

23. O processo de produção do espaço da região Centro-Oeste e, conseqüentemente, do estado de Mato Grosso, foi descontinuo, nucleado e desarticulado. Sendo assim, podem ser identificadas, em Mato Grosso, as seguintes fases de ocupação:

- A) Pecuária extensiva – século XVIII; mineração e fortificações – século XIX, até o final da Guerra do Paraguai, em 1870; internacionalização da navegação do rio Paraguai e diversificação da produção econômica – após 1870; processo inicial de integração econômica regional e modernização de algumas áreas produtivas – décadas de 1940, 1950 e 1960.
- B) Mineração e fortificações – século XVIII; pecuária extensiva – século XIX, até o final da Guerra do Paraguai, em 1870; internacionalização da navegação do rio Paraguai e diversificação da produção econômica – após 1870; processo inicial de integração econômica regional e modernização de algumas áreas produtivas – décadas de 1940, 1950 e 1960.
- C) Mineração e fortificações – século XVIII; pecuária extensiva – século XIX, até o final da Guerra do Paraguai, em 1870; processo inicial de integração econômica regional e modernização de algumas áreas produtivas – após 1870; internacionalização da navegação do rio Paraguai e diversificação da produção econômica nas décadas de 1940, 1950 e 1960.
- D) Processo inicial de integração econômica regional e modernização de algumas áreas produtivas – século XVIII; pecuária extensiva – século XIX, até o final da Guerra do Paraguai, em 1870; internacionalização da navegação do rio Paraguai e diversificação da produção econômica – após 1870; mineração e fortificações – décadas de 1940, 1950 e 1960.

24. Os estados de Mato Grosso e Mato Grosso do Sul formavam uma única unidade federativa que foi dividida, pelo Governo Federal, em:

- A) 1969
- B) 1977
- C) 1988
- D) 1990

25. Localizado no Centro-Oeste brasileiro, o Mato Grosso é o maior estado em extensão territorial da região e o terceiro maior do país. Sua área é de 903.329,700 quilômetros quadrados e faz limites com os estados de:

- A) Goiás e Tocantins
- B) Pará e Minas Gerais
- C) Tocantins e Roraima
- D) Pará e Bahia

NOÇÕES DE ÉTICA E FILOSOFIA

26. A noção de um conhecimento objetivo denota a ideia de:

- A) um conhecimento cuja validade é relativa a uma época histórica
- B) um conhecimento cuja validade não transcende os pontos de vista particulares
- C) um conhecimento válido independentemente de qualquer ponto de vista particular
- D) um conhecimento válido independentemente de ser verdadeiro

27. No âmbito da filosofia política, o conceito de intolerância religiosa denota a ideia de que:

- A) uma única religião deve ter direito à liberdade de culto
- B) um Estado democrático deve possibilitar a pluralidade religiosa
- C) diferentes religiões devem ter direito à liberdade de culto
- D) o Estado deve ser laico e republicano

28. Um regime político no qual os governantes são livremente escolhidos pelos cidadãos é um:

- A) regime político ditatorial
- B) regime político democrático
- C) estado de natureza pré-político
- D) regime monárquico

29. O conceito de igualdade de oportunidades denota a ideia de que:

- A) as posições sociais devem ser acessíveis a todos
- B) uma casta religiosa deve ter um acesso privilegiado aos bens sociais
- C) a acessibilidade às posições sociais deve ser hierarquizada
- D) uma aristocracia natural deve ter um acesso privilegiado aos bens sociais

30. Uma concepção materialista da realidade expressa a ideia de que:

- A) a mente é uma substância puramente incorpórea
- B) a matéria é uma substância puramente mental
- C) a mente não é uma substância puramente incorpórea
- D) toda atividade mental é absolutamente inconsciente

RELAÇÕES INTERPESSOAIS

31. Atualmente, os clientes esperam uma experiência cada vez mais qualificada com as empresas. Neste sentido, a qualidade do atendimento ao cliente torna-se um grande diferencial competitivo. Segundo Las Casas (2012), alguns dos fatores que levam a um bom atendimento podem ser definidos por:

- A) confiança e morosidade
- B) responsividade e confiança
- C) gentileza e indiferença
- D) responsividade e grosseria

32. Segundo Robbins (2010), no processo de comunicação, diversas barreiras podem dificultar ou distorcer a comunicação eficaz. A barreira que existe quando as informações excedem a capacidade de processamento das pessoas pode ser chamada de:

- A) percepção seletiva
- B) filtragem
- C) medo da comunicação
- D) sobrecarga de informação

33. Cada vez mais o trabalho em equipe tem sido incentivado em diversas áreas profissionais, pois o torna mais produtivo e enriquecedor. Um dos aspectos importantes que o profissional precisa desenvolver para que se obtenha um bom trabalho em equipe é:

- A) realizar trabalhos individuais, sem a contribuição de nenhum outro colaborador
- B) saber sempre impor o seu ponto de vista de forma autoritária
- C) ter capacidade de ouvir e de se comunicar de forma clara
- D) fazer o seu trabalho da melhor forma e não se importar com o resultado coletivo

34. A resposta emocional que se refere à capacidade de o indivíduo compreender, sem julgar, as experiências positivas e negativas do outro que implica em compartilhar a emoção percebida no outro, sentir com o outro, entender suas preocupações e fazer com que possa sentir-se compreendido chama-se:

- A) empatia
- B) amizade
- C) entendimento
- D) simpatia

35. Para que haja efetiva capacidade de absorção organizacional, é necessário que haja mediação por meio de um mecanismo que funcione como elo e que possibilite que a empresa assimile, transforme e explore o conhecimento. Esse mecanismo pode ser definido como integração:

- A) social
- B) ambiental
- C) hierárquica
- D) de aprendizagem

NOÇÕES DE ADMINISTRAÇÃO PÚBLICA

36. O princípio que impõe ao agente público que este, na sua conduta e no desempenho da sua atividade estatal, tome por base os valores éticos denomina-se:

- A) legalidade
- B) publicidade
- C) eficiência
- D) moralidade

37. O poder hierárquico da administração pública se caracteriza por:

- A) apurar infrações e aplicar penalidades
- B) estabelecer a subordinação entre seus agentes
- C) elaborar atividades e atos normativos de caráter geral
- D) regular a prática de ato em razão do interesse público

38. O serviço que a administração pública exerce de forma centralizada, distribuindo suas competências entre seus vários órgãos com a finalidade de tornar mais ágil e eficiente a prestação dos serviços, denomina-se:

- A) desconcentração
- B) delegação
- C) permissão
- D) autorização

39. O desfazimento volitivo de um ato é a resultante da manifestação expressa da autoridade com competência para desfazê-lo. Quando esse desfazimento se faz por um mero cumprimento normal de seus efeitos, denomina-se extinção:

- A) subjetiva
- B) objetiva
- C) natural
- D) por caducidade

40. O controle que é realizado pela entidade ou órgão responsável de um Poder no âmbito hierárquico da própria administração é conhecido como:

- A) externo
- B) interno
- C) político
- D) judiciário

CONHECIMENTOS ESPECÍFICOS

41. Supõe-se que o estabelecimento industrial XYZ Ltda. pretenda se instalar no município de Cuiabá/MT em área reservada ao polo industrial de desenvolvimento econômico dessa região.

Com base na Lei Orgânica do Município de Cuiabá/MT, para fins de concessão de licença para localização, instalação e funcionamento desse estabelecimento industrial, de acordo com os critérios da lei, o respectivo ato compete:

- A) à Câmara Municipal de Cuiabá/MT
- B) à União exclusivamente
- C) ao município de Cuiabá/MT
- D) ao Estado de Mato Grosso exclusivamente

42. À luz da Lei Orgânica do Município de Cuiabá/MT, a fixação dos subsídios do Prefeito, do Vice-Prefeito e dos Secretários Municipais por meio de lei é de competência privativa:

- A) do Poder Judiciário
- B) da Câmara Municipal
- C) da Prefeitura Municipal
- D) da Corte de Contas Municipal

43. O Regulamento instituído pela Resolução nº 001/2020, que dispõe sobre Plano de Cargos, Carreiras e Salários da Empresa Cuiabana de Limpeza Urbana – LIMPURB, **NÃO** contempla como objetivo:

- A) a concessão ao empregado de visão de futuro sobre sua carreira, trazendo segurança jurídica
- B) a valoração do empregado de acordo com seu desempenho e com sua dedicação às metas e aos objetivos institucionais da LIMPURB
- C) a contribuição de maneira direta ou indireta, para o desenvolvimento técnico, profissional e pessoal do empregado, evidenciando o papel da responsabilidade social da empresa
- D) o ingresso do empregado a ser investido em quaisquer cargos da LIMPURB por meio de entrevista realizada por profissional integrante de empresa de recrutamento de pessoas contratada pela LIMPURB para tal fim

44. De acordo com o Regulamento do Plano de Cargos, Carreiras e Salários da Empresa Cuiabana de Limpeza Urbana – LIMPURB, instituído pela Resolução nº 001/2020, em suas disposições gerais, entende-se como remuneração:

- A) a soma do salário-base com as vantagens e demais estímulos devidos ao empregado pelo exercício do cargo
- B) o salário inicial exclusivamente, pago de modo igual por categoria
- C) a movimentação de um empregado de uma classe para a seguinte, mediante a comprovação do certificado reconhecido pelo Ministério da Educação - MEC
- D) a movimentação de um empregado de um nível para o seguinte, observado o interstício de 01 (um) ano alternadamente por tempo de serviço e merecimento

45. De acordo com a Lei Orgânica do Município de Cuiabá/MT, são símbolos do Município de Cuiabá/MT representativos da cultura, da história e da tradição do seu povo:

- A) o Brasão, o Hino e a Bandeira
- B) a Lei Orgânica do Município, a sede da Prefeitura Municipal e o Plano Diretor Municipal
- C) a sede da Câmara Municipal, a sede da Prefeitura Municipal e a Bandeira
- D) a sede da Câmara Municipal, a sede da Prefeitura Municipal e o Hino

46. Arquivo pode ser conceituado como o conjunto de documentos produzidos e guardados por uma organização no desempenho de sua atividade. Dessa forma, os documentos de valor primário e objetos de consultas diárias por quem os criou referem-se aos arquivos:

- A) permanentes
- B) intermediários
- C) correntes
- D) mortos

47. Nos processos administrativos, o direito legal que os chefes têm de dirigir, ordenar, comandar ou se fazer obedecer está relacionado ao conceito de:

- A) moral
- B) liderança
- C) hierarquia
- D) autoridade

48. O significado de qualidade que está relacionado com o melhor que se pode fazer e que corresponde aos mais elevados padrões de desempenho em qualquer campo de atuação é denominado:

- A) excelência
- B) especificação
- C) conformidade
- D) adequação ao uso

49. A ferramenta administrativa de gestão de estoques que consiste na verificação do consumo em valores monetários ou em quantidades, normalmente para o período de um ano, dos itens em estoque para classificá-los em ordem decrescente de importância denomina-se análise:

- A) JIT
- B) LEC
- C) ABC
- D) UEPS

50. A eleição de uma estratégia correta de compras pode dar uma grande vantagem competitiva para a empresa. A estratégia que prevê que a empresa comprará de terceiros o máximo possível de itens que compõem seu produto final é denominada:

- A) verticalização
- B) diversificação
- C) diferenciação
- D) horizontalização

51. A etapa do treinamento em que ocorre o levantamento das necessidades de treinamento a ser efetivado na organização é chamada de:

- A) desenho
- B) avaliação
- C) diagnóstico
- D) implementação

52. Para o desenvolvimento das pessoas que integram as organizações, pode ser utilizado um método que movimenta o empregado por várias posições de trabalho, buscando expandir suas habilidades, conhecimentos e capacidades, o que caracteriza o seguinte método:

- A) rotação de cargos
- B) jogos de empresas
- C) aprendizagem prática
- D) exercício de simulação

53. Recrutamento é conceituado como o esforço que a empresa faz para atrair os candidatos mais qualificados para seus postos de trabalho vagos, podendo se utilizar do recrutamento interno ou externo. Assim, é uma vantagem do recrutamento externo:

- A) ser mais barato e seguro
- B) renovar a cultura organizacional
- C) não requerer socialização organizacional
- D) incentivar a permanência dos funcionários na empresa

54. As técnicas de seleção visam obter informações a respeito do candidato que se apresenta na organização para participar do processo seletivo. Nesse sentido, o instrumento de seleção que se utiliza de dramatizações e dinâmicas de grupos e serve para selecionar integrantes de cargos que exijam relacionamento interpessoal, como cargos de direção, gerência, supervisão, vendas e compras é denominado:

- A) técnicas de simulação
- B) testes psicotécnicos
- C) testes de personalidade
- D) entrevistas de seleção

55. A avaliação de desempenho em que participam todos os que mantêm alguma interação com o avaliado, como chefe, colegas, pares, subordinados e clientes é a do tipo:

- A) 360 graus
- B) rondonizada
- C) autoavaliação
- D) avaliação para cima

56. A receita tributária gerada pela valorização imobiliária, decorrente das obras públicas realizadas, para fazer face aos custos é a denominada:

- A) taxa
- B) imposto
- C) transferência corrente
- D) contribuição de melhoria

57. O estilo formal nas correspondências comerciais se caracteriza, dentre outras, segundo Medeiros (2010), pelo seguinte:

- A) uso de gírias
- B) existência de abreviações
- C) uso de pronomes pessoais
- D) ausência de coloquialismos

58. Segundo Chiavenato (2014), o elemento do sistema de comunicação que significa a quantidade de perturbação indesejada, que tende a deturpar a mensagem transmitida, é denominado:

- A) canal
- B) receptor
- C) ruído
- D) mensagem

59. Na ética do serviço público, a ação caracterizada pela prática constante do bem, pela excelência moral do praticante, produto do hábito e que pode ser alterada pelo hábito, vivenciada (a prática) pelo uso da liberdade com responsabilidade, está relacionada ao conceito de:

- A) juízo
- B) prazer
- C) virtude
- D) filosofia

60. A maneira de escriturar, no sistema financeiro, o recolhimento de receita corrente é:

- A) D – Receita prevista corrente
C – Bancos
- B) D – Bancos
C – Receita arrecadada corrente
- C) D – Execução da receita corrente
C – Caixa
- D) D – Receita arrecadada corrente
C – Caixa

RASCUNHO

RASCUNHO